


Trainingsblatt

Schiefe Ebene, zeichnerisch

Zeichne zu der jeweils angegebenen Kraft das Kräfteparallelogramm aus Gewichtskraft, Hangabtriebskraft und Normalkraft.
 Berechne aus der Länge der Kraftpfeile den Betrag der fehlenden Kräfte.

1)




$G = 22 \text{ N}$

$F_H =$

$F_N =$

2)

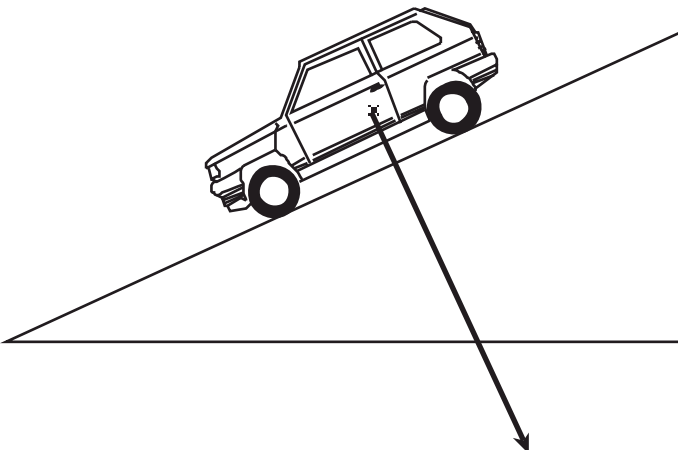


$G =$

$F_H = 40 \text{ N}$

$F_N =$

3)



$G =$

$F_H =$

$F_N = 150 \text{ N}$

