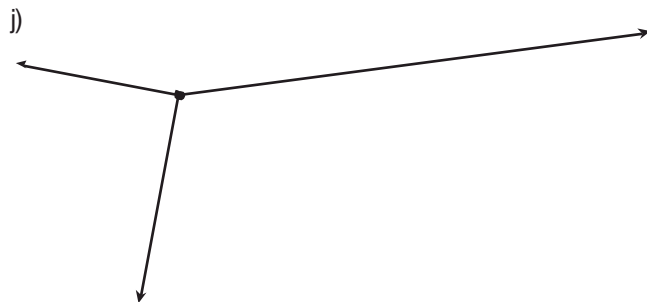
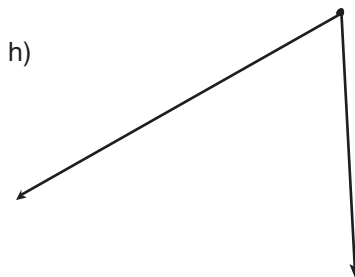
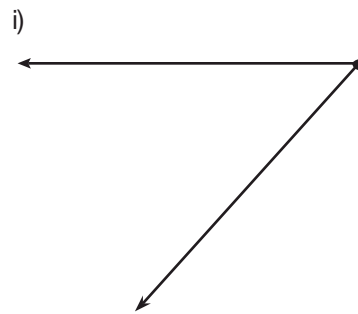
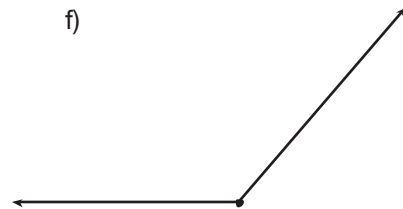
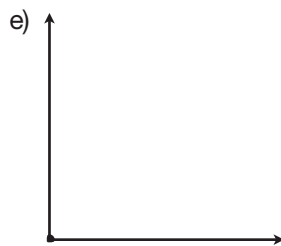
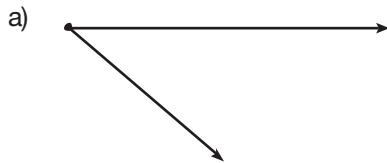


Arbeitsblatt

Addition von Kräften

Addiere folgende Kraftpfeile zeichnerisch unter Verwendung des Kräfteparallelogramms und gib den Betrag der resultierenden Kraft an. In welchen Fällen ist eine **einfache** Rechnung möglich?

Kräftemaßstab: 1 cm entspricht 1 N.



Ergebnisse: a) _____ b) _____ c) _____ d) _____
 e) _____ f) _____ g) _____ h) _____
 i) _____ j) _____

